

ID-DIRETTORAT GĦAL KWALITÀ U STANDARDS FL-EDUKAZZJONI  
 Id-Dipartiment tal-Kurrikulu u *eLearning*  
 It-Taqsima tal-Assessjar Edukattiv  
**L-Eżamijiet Annwali għall-Iskejjel Sekondarji 2011**

**IT-TIELET SENA      IL-ĠEOGRAFIJA (Ġenerali)      IL-HIN: Siegħa u nofs**

**L-Isem:** \_\_\_\_\_

**Il-Klassi:** \_\_\_\_\_

**Wieġeb il-mistoqsijiet kollha u iktib ċar.**

**Din hija lista ta' kliem ġeografiku użat f'din il-karta tal-eżami u t-tifsira tiegħu bl-Ingliż.**

Belt jew raħal	Settlement
Ċiklu tal-ilma	Water Cycle
Karatteristiċi	Features
Forma ta' raħal	Settlement pattern
Il-qalba kummerċjali tal-belt	The Central Business District
Pol tat-Tramuntana	North Pole
Punti koordinati	Grid References
Watja	Lowland area

**Tahriġ A**

Il-karatteristiċi jistgħu jkunu fiżiċi, umani jew ambjentali.  
 Agħti tliet eżempji għal kull tip fit-tabella ta' hawn taħt.

<b>Fiziċi</b>	<b>Umani</b>	<b>Ambjentali</b>

9 marki

**Tahriġ B**

i. Ikteb **VERU** jew **FALZ** fl-aħħar ta' kull sentenza.

1. Il-latitudni huma linji orizzontali mpingija fuq il-mapep. \_\_\_\_\_
2. Iċ-Ċirku Artiku huwa l-akbar linja tal-latitudni. \_\_\_\_\_
3. Hemm disgħin linja ta' latitudni mill-Ekwatur sal-Pol tat-Tramuntana. \_\_\_\_\_
4. It-Tropiku ta' Kaprikornu jinsab 23½° lejn it-Tramuntana. \_\_\_\_\_
5. Il-Pol tat-Tramuntana qiegħed 90° lejn it-Tramuntana. \_\_\_\_\_
6. Il-Meridjan ta' Greenwich huwa magħruf ukoll bhala l-Meridjan Internazzjonali. \_\_\_\_\_

7. Il-longitudni huma mmarkati bhala linji vertikali fuq il-mapep. \_\_\_\_\_
8. Il-longitudni huma linji paralleli ma' xulxin li ma jiltaqghux. \_\_\_\_\_
9. Eżatt fl-oppoſt tal-longitudi  $0^\circ$  hemm il-longitudni  $180^\circ$ . \_\_\_\_\_
10. Hemm 360 linja ta' longitudni maqsumin f' 180 linja lejn il-lvant u 180 lejn il-punent tal-Meridjan ta' Greenwich. \_\_\_\_\_

10 marki

- ii. Irranga s-sentenzi mmarkati 'Falz' fit-taħriġ t'hawn fuq billi tiktibhom mill-ġdid.

---

---

---

---

4 marki

### Taħriġ C

Imla l-vojt f'dawn is-sentenzi bl-ismijiet tal-ħames saffi tal-blat li nsibu f'Malta.

1. \_\_\_\_\_ huwa l-uniku blat impermeabbli li nsibu f'Malta.
2. \_\_\_\_\_ huwa l-aktar blat iebes f'Malta.
3. \_\_\_\_\_ jifarrak faċilment u jifforma r-ramel dehbi li jinsab f'uħud mill-bajjiet Maltin.
4. \_\_\_\_\_ huwa l-blat li fforma l-aħħar f'Malta għax jinsab fil-wiċċ f'dawk l-inhawi fejn hemm il-ħames saffi ta' blat.
5. \_\_\_\_\_ huwa l-ġebel li jintuża għall-bini f'Malta.

10 marki

**Tahriġ D**

L-istampa turi art watja li hija mfawra bl-ilma.

Agħti erba' raġunijiet li jwasslu għall-gharghar.



---

---

---

---

---

---

---

---


---

---

8 marki

**Tahriġ E**

Piġi disinn sempliċi ta' **Ċiklu tal-Ilma**. Fih semmi **hames** kelmiet ġeografiċi.



10 marki

**Tahriġ F**

Il-bliet u l-irhula jistgħu jkunu b'forma **mferrxa, imgeddsin f'xulxin jew lineari**.

i. Aġti t-tifsira ta' dawn il-forom ta' bliet u rħula:

**Mferrxa** \_\_\_\_\_

\_\_\_\_\_

**Imgeddsin f'xulxin** \_\_\_\_\_

\_\_\_\_\_

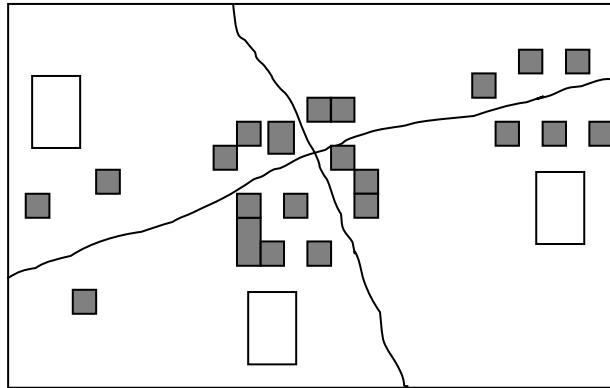
**Lineari** \_\_\_\_\_

\_\_\_\_\_

6 marki

ii. Fuq l-istampa hawn taht ikteb in-numri **1, 2 u 3** fil-kaxxi l-vojta biex turi t-tliet tipi ta' żvilupp ta' bliet u rħula.

- 1. Mgeddsin f'xulxin      2. Mod lineari      3. Mferrxa**



6 marki

**Tahriġ G**

Agħti aktar taġrif dwar l-aspetti tal-qalba kummerċjali tal-belt imsemmijin fl-ewwel kolonna. Ara l-eżempju.

ASPETTI	TAGHRIF
L-aċċess lejn il-qalba kummerċjali	It-toroq prinċipali tal-belt iwasslu lejn il-qalba kummerċjali u b'hekk hemm aċċess tajjeb lejn din il-parti ċentrali tal-belt.
Il-prezz tal-art fil-qalba kummerċjali tal-belt	
It-traffiku	
L-ispazju	
Il-bini ġdid	
Is-servizzi pprovduti	

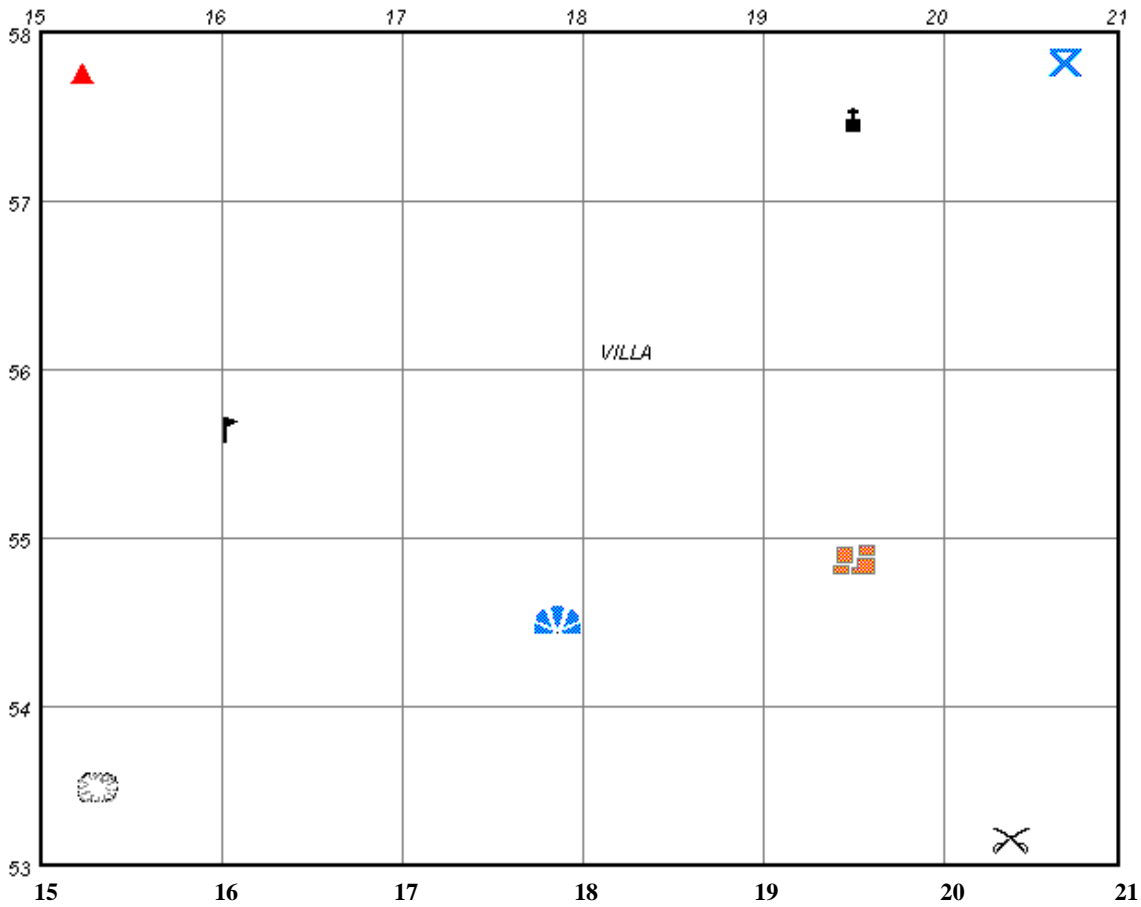
10 marki

### Tahriġ H

Hawn taħt insibu disa' simboli tal-mapep.

L-ismijiet ta' sitta minnhom huma miktubin fit-tabella ta' taħt.

Ħdejn dawn l-ismijiet aġħti l-punti koordinati b'sitt numri hekk kif jidher fl-eżempju.

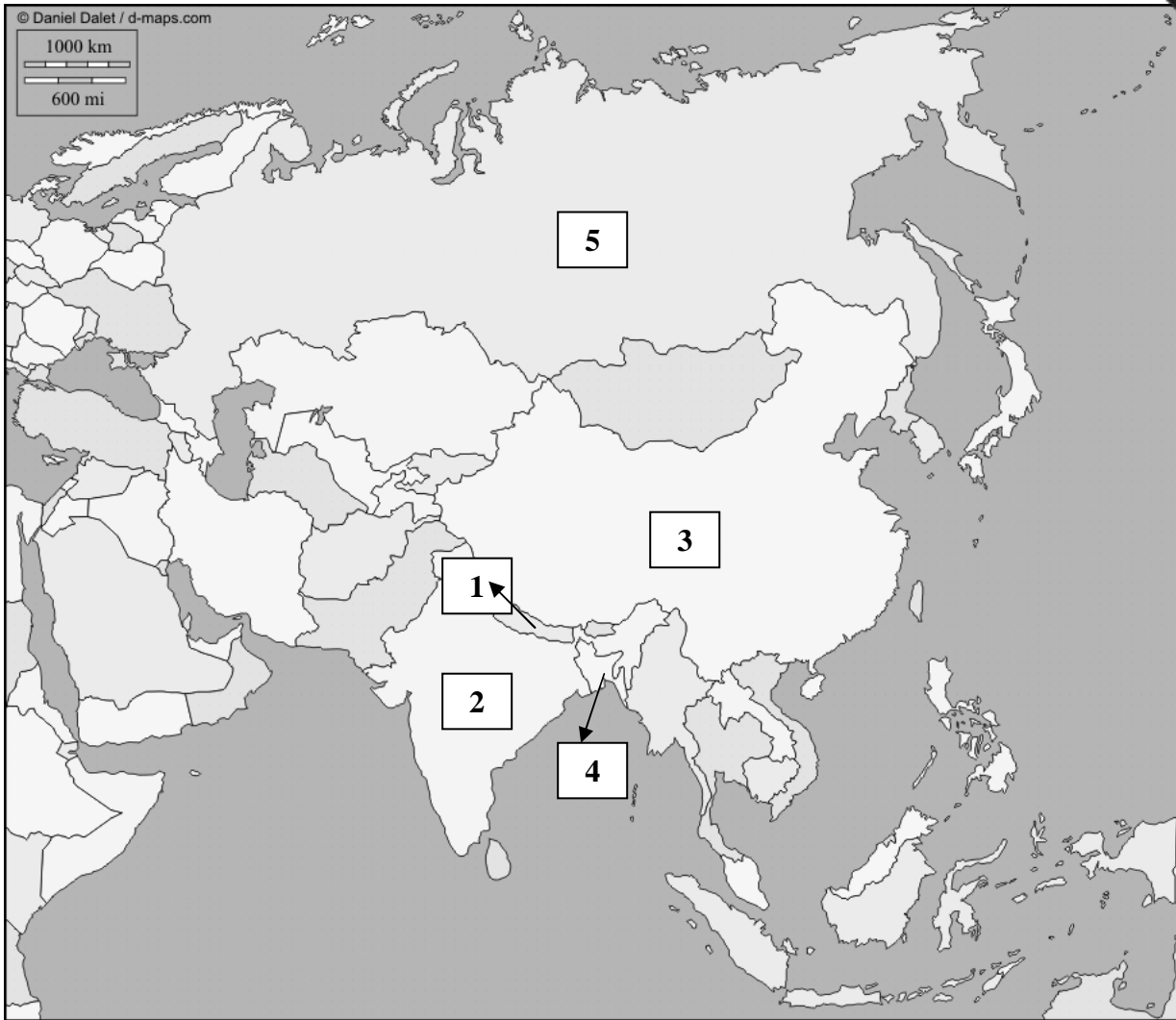


Is-Simboli tal-Mapep	Il-Punti Koordinati b'sitt numri
1. Bini	195549
2. Korsa tal-golf	
3. Hostel għaż-żgħażaġh	
4. Sit għal piknik	
5. Post fejn hemm veduta	
6. Post tal-battalja	

10 marki

**Tahriġ I**

Hares sewwa lejn il-mappa tal-Asja u wara ahdem it-tahriġ li hemm taht.



Fit-tabella t'hawn taht ikteb l-ismijiet tal-pajjizi skont in-numru fil-mappa.

Numri fuq il-Mappa tal-Asja	Pajjizi
1	
2	
3	
4	
5	

10 marki

**Tahriġ J**

Ikteb paragrafu dwar wiehed minn dawn:

- i. Il-problemi ewlenin bhala riżultat tal-iżvilupp riċenti fit-trasport.
- ii. Kif nistgħu nipproduċu oġġetti ġodda bi prodotti mwarrba.

---

---

---

---

---

---

---

---

---

---

---

---

---

---

---

---

---

---

---

---

---

---

---

---

7 marki