



Kullegġ Santa Tereza  
PARVA PARVORUM PULCHRA

**Skejjel Primarji**  
**Eżamijiet ta' Nofs is-Sena 2011**

---

**Is-Sitt sena**

**STUDJU SOĊJALI**

**HIN: Siegha**

---

**Isem u kunjom:** \_\_\_\_\_

**Klassi:** \_\_\_\_\_

**A. Aghmel sing taht il-kelma t-tajba:**

1. L-ewwel nies insejnhom nies ta' Żmien (il-Ħaġar, il-Bronz, il-Preistorja, ir-Ram) għax ma kinux jafu jiktbu.
2. Materjal li jingarr mill-ilmijiet tax-xmajjar jissejjah (sediment, ħama, saff, kontinent).
3. Nies li jistudjaw fdalijiet li hallew missirijietna jissejhu (għalliema, xjenzati, bdiewa, arkeologi).
4. Id-demokrazija hi l-bażi li fuqha mibnija (l-ħajja, l-opinjoni, d-dinja, s-soċjetà).
5. Fi stat demokratiku l-poplu (għandu dritt li, bilfors irid, m'għandux dritt li, ma jafx) jivvota.
6. L-aktar mod popolari li bih nikkomunikaw bejnietna hu (bil-mowbajl, bil-lingwa, bit-telefown, bir-radju).
7. Madrid hija l-belt kapitali ta' (Franza, Malta, Spanja, Izrael).
8. Il-Fliegu ta' Ġibiltà jiehu għall-Oċean (Indjan, Paċifiku, Atlantiku, tan-Nofsinhar).
9. L-iżgħar kontinent hu dak tal-(Amerika, Ewropa, Afrika, Awstralja).
10. Bħal Malta, (Ċipru, Sqallija, Sardenja, Kreta) hi gżira indipendenti fil-Mediterran.

(10 marki)

**B. Wieġeb billi tikteb VERU jew FALZ. Ara l-eżempju:**

1.	Min jitwieled Malta jkun ċittadin Malti.	<b>VERU</b>
2.	Nikkomunikaw bejnietna billi nsuqu l-karozza.	
3.	F'Malta toħroġ aktar minn gazzetta waħda.	
4.	L-internet hu mezz ta' komunikazzjoni modern.	
5.	L-internet hu invenzjoni mill-aqwa u ma fih l-ebda periklu.	
6.	Il-lingwa hi mezz ta' komunikazzjoni soċjali.	
7.	L-elezzjonijiet generali jsiru kull 10 snin.	

(6 marki)

**Ċ. Aqta' linja taħt dawk il-kliem li huma eżempji ta' *mass media*?**

televixin	dawl	ġurnali	muturi	xarabank
ħamiema	radju	sms	websajt	ittri

(4 marki)

**D. Għaqqad kolonna m'ohra.**

1.	Bih isiru oġġetti tal-fuħħar.		Żonqor
2.	Tip ta' ġebel li jitfarrak malajr		Taflì
3.	Dan nużawh biex nibnu d-djar tagħna bih.		Qawwi ta' Fuq
4.	L-aħħar saff li fforma fil-qiegh tal-baħar.		Franka
5.	Blat iebes ħafna u jinsab isfel nett.		Ġebbla s-Safra

(5 marki)

**E. Ikteb l-isem tal-BELT jew RAĦĦAL.**

1. Hawnhekk insibu port żgħir f'Malta li jintuza mill-yapuri li jaqsmu għal Għawdex.



\_\_\_\_\_

2. Port importanti tas-sajd li jinsab in-naħa tax-Malta.



\_\_\_\_\_

3. Bajja ramlija u fl-istess hin port tas-sajd f'Għawdex.



\_\_\_\_\_

4. Belt qrib l-Imdina. Fiha nsibu d-Dar Rumana u l-Katakombi.



\_\_\_\_\_

5. Belt storika mdawra bis-swar. Il-Forti Sant Anġlu tinsab hawnhekk.



\_\_\_\_\_

6. Insibu l-ikbar bajja mrammlija f'Malta u r-riserva tal-ghasafar.



\_\_\_\_\_

(6 marki)

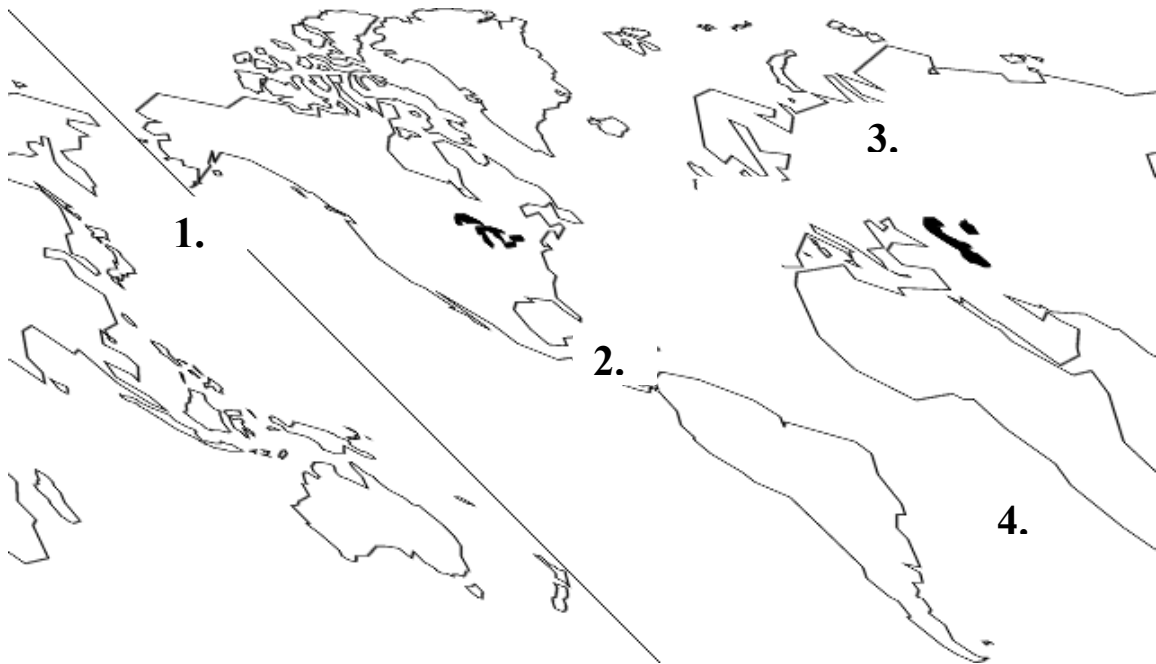
**F. Wieġeb b' kelma wahda.**

1.	Fdalijiet ta' hlejjaq tal-baħar li ntradmu mal-ħama u s-sediment u ġew maqbuda fil-blat.	
----	--	--

2.	Blat gholi hafna li jinzel dritt 'l isfel ghall-baħar.	
3.	Insibuhom imwahnla mas-soqfa ta' xi gherien.	
4.	Ġew iffurmati biċ-ċaqliq tal-art jew bis-saħħa tal-ilmijiet.	
5.	Fis-sajf ikunu ffullati sew bin-nies	

(10 marki)

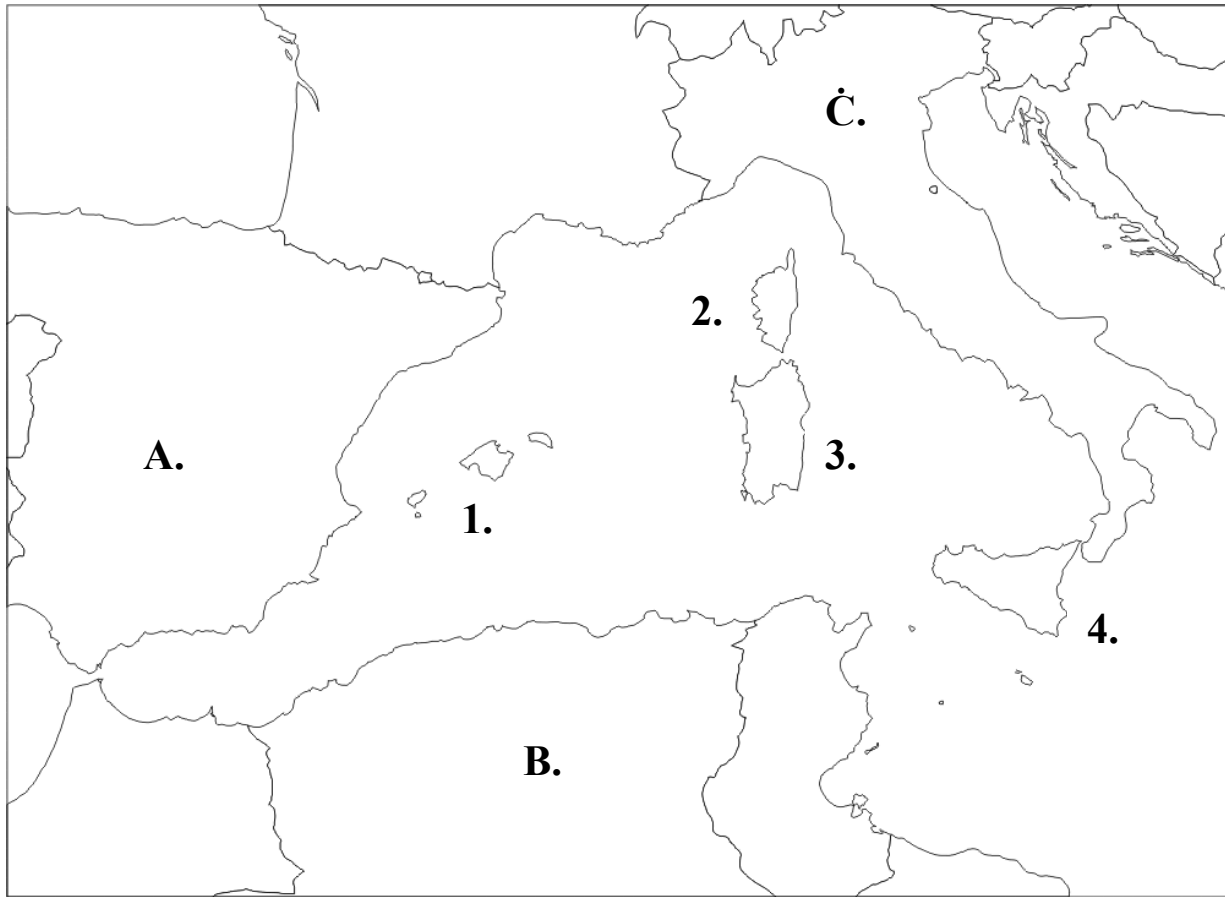
**Ġ. In-numri fuq il-mappa tad-dinja juru 4 kontinenti. Ikteb in-numru wara l-isem tal-kontinent.**



Awstralja	
Amerika	
Asja	
Afrika	

(4 marki)

**G(i). Hares sew lejn din il-mappa u wieġeb il-mistoqfa.**



1. X'jismu l-baħar li qed tara f'din il-mappa? \_\_\_\_\_

2. Liema huma l-pajjiżi immarkati fuq il-mappa?

A. \_\_\_\_\_ B. \_\_\_\_\_ C. \_\_\_\_\_

3. Immarka bi vleggħa l-Fliegu ta' Ġibiltà.

4. Dan il-fliegu jinsab bejn pajjiż A u l-\_\_\_\_\_.

5. Imla din it-tabella billi tikteb l-ismijiet tal-gzejjer:

1.		2.	
3.		4.	

(10 marki)

**G(ii). Wiegħeb dwar il-Baħar Mediterran:**

1. Barra l-Fliegu ta' Ġibiltà hemm żewġ dahliet oħra. Liema huma?

i) \_\_\_\_\_ ii) \_\_\_\_\_


2. Liema minn dawn huwa magħmul mill-bniedem?

\_\_\_\_\_

(3 marki)

**GH(i). Imla l-vojt:**

L-ewwel nies x'aktarx ġew minn \_\_\_\_\_ Huma kienu  
bahħara tajbin infatti ġew Malta fuq xi \_\_\_\_\_. Dawn  
in-nies kienu jgħixu go xi \_\_\_\_\_. L-ghodda ta' dawn  
in-nies kienet magħmula mill-\_\_\_\_\_, u għalhekk  
insejħulhom nies ta' \_\_\_\_\_.



(10 marki)

**GH(ii). Aqra u imla l-vojt skont kif taħseb l-ahjar:**

1. Dan ir-ritratt jurina l-Ipoġew li jinsab \_\_\_\_\_



2. Dan l-Ipogew hu differenti mit-tempji l-oħra ghax gie \_\_\_\_\_ l-art.

3. L-isbaħ kamra f'dan it-tempju hija \_\_\_\_\_.

4. Kamra oħra importanti f'dan l-Ipogew kienet \_\_\_\_\_ li mas-saqaf tagħha kien hemm impingija \_\_\_\_\_.

(10 marki)

### H. Wieġeb fil-qosor?

1. F'liema sena seħħ l-Assedju l-Kbir? \_\_\_\_\_

2. F'liema Port tħalliet il-flotta Torka? \_\_\_\_\_

3. Fejn għamlu l-kamp tagħhom it-Torok? \_\_\_\_\_

4. Liema fortizza rebhu t-Torok? \_\_\_\_\_

(8 marki)

### H. Imla bil-kliem mogħti:

Vittoriosa	Piali Paxà	Maltin	Dragut	granmastru
Assedju	fortizza	Mustafa Paxà	Solejman	Vitorja



La Vallette kien il-\_\_\_\_\_ tal-Ordni ta` San Ġwann matul l-\_\_\_\_\_. Huwa heles hafna mill-prigunieri biex dawn ikunu jistgħu jgħinu lill-\_\_\_\_\_ fl-Assedju. Is-Sultan Tork \_\_\_\_\_ poġġa l-flotta Torka f'idejn \_\_\_\_\_ . It-truppi Torok kienu taħt il-ġeneral \_\_\_\_\_ . Il-furban Tork \_\_\_\_\_ miet waqt l-attakk fuq Sant Iermu. Madwar elf u hames mitt nistrani u xi tmint elef Tork mietu matul il-ġlied fuq din il-\_\_\_\_\_ . Ahna

niċċelebraw ir-rebħa tal-Kavallieri fuq it-Torok fil-festa tal-\_\_\_\_\_. Wara l-Assedju l-Kbir il-Birgu beda jissejjaħ jġigifieri Belt Rebbieħa.

**I. Semmi 2 diffikultajiet li ltaqgħu magħhom it-Torok waqt l-Assedju l-Kbir:**

1. \_\_\_\_\_

(10 marki)

2. \_\_\_\_\_



---

---

(4 marki)