



Scrúdú na hArdteistiméireachta, 2011

Teicneolaíocht
Gnáthleibhéal

Dé hAoine, 24 Meitheamh
Tráthnóna, 2:00 - 4:00

Tá trí roinn sa pháipéar seo. Tabhair faoi **gach Roinn** díobh.

Roinn A: Croíchúrsa – Ceisteanna gearrfhreagra.

Roinn B: Croíchúrsa – Ceisteanna fadfhreagra.

Roinn C: Roghanna – Ceisteanna fadfhreagra.

Roinn A - Croíchúrsa (72 marc)

Treoracha:

- (a) Freagair **naoi gceist** ar bith sna spásanna atá ann dóibh. Tá 8 marc ag gabháil le gach ceist i Roinn A.
- (b) Tarraing na sceitsí go léir le peann luaidhe.
- (c) Tabhair ar ais an leabhrán seo ag deireadh an scrúdaithe.
- (d) Scriobh do scrúduimhir sa bhosca atá ann di agus ar gach leathanach eile a úsáideann tú.

Uimhir an Ionaid

Roinn	Marc
Roinn A	
Roinn B	
Roinn C	
Iomlán	
Grád	

Scrúduimhir:

Roinn A. Freagair **naoi** gceist ar bith. Tá 8 marc ag gabháil le gach ceist.

1.

- (i) Is gaireas ilfheidhmiúil iad fón phóca nua-aimseartha. Ainmnigh **dhá** fheidhm atá acu seachas glaonna teileafón a dhéanamh.



- (ii) Le déanaí tá an fón póca tar éis forbairt ina Fhón Cliste. Ainmnigh **dhá** fheidhmchlár (*apps*) is féidir a úsáid le Fón Cliste.

1. _____

2. _____

2.



- (i) Is ábhar *cumaisc* í coinchréit. Abair cad is ciall leis an téarma seo.

- (ii) Tá a lán táirgí ar fáil don ghairdín agus don tógáil atá déanta as *coinchréit réamhtheilgthe*. Luaigh **dhá** shampla de tháirgí dá leithéid.

1. _____

2. _____

3.

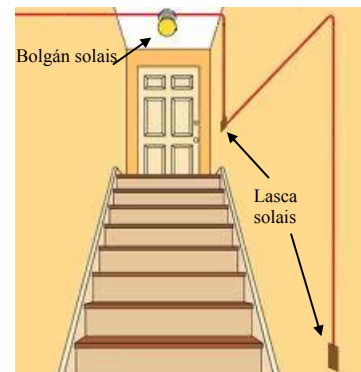
Sa bhosca atá ann di, tarraing siombail do gheata **OR** a bheadh oiriúnach chun an solas sa halla a ghníomhachtú le ceachtar lasc.



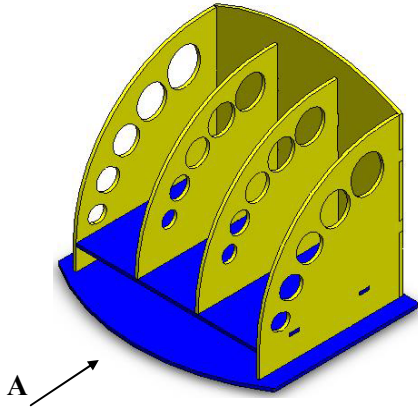
geata **OR**

Críochnaigh an tábla firinne don gheata loighice seo.

Lasc A	Lasc B	Bolgán Solais
0	0	0



4.



Sa bhosca atá ann dó, déan sceitse 2T dea-chomhréireach den aonad stórála nuair a bhreathnaítear air sa treo ina bhfuil an tsaighead **A**.

5.

Taispeánann an íomhá an fhaighneog tharrthála a úsáideadh nuair a tarrtháladh na mianadóirí sa tSile.

Mól **dhá** cheist a d'fhéadfaí a chur le linn chéim dhearaidh na faighneoige tarrthála seo.

Ceist 1:

Ceist 2:



6.

Ainmnigh an cineál luamháin atá sna grafaicí **A** agus **B**.

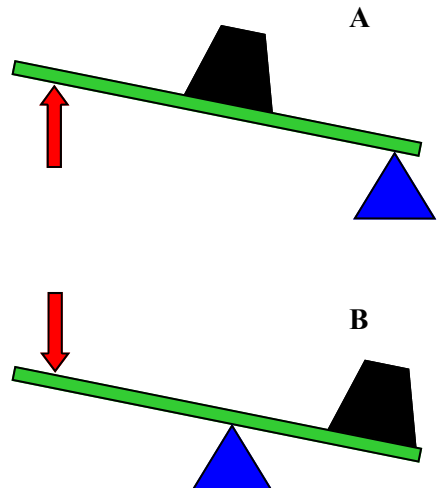
A: _____

B: _____


Luaigh gnáthshampla **amháin** den dá chineál luamháin.

A: _____

B: _____



7.

do bhille leictreachais 

Mr Sam Sample,
Any Street,
Any Town,
Any County

METER NO.	METER READINGS	ELECTRICITY USED	METER READING TYPES
Z000001234	6010	5065	945

Discount Tariff - Urban Day		AMOUNT €	
Description	Units	Rate	
Standing Charge	61 days	25.20 cent/day	15.42
24 hour Units	945	14.10 cent/kWh	133.25
Direct Debit Discount		12%	15.99 CR
Total excluding V.A.T.			132.86
V.A.T. @ 13.5%			17.94
Invoice Total			150.82

PLEASE PAY BY **TOTAL €**
Direct Debit 150.82

Ina **kWh** a thomhaistear an leictreachas a úsáidtear le haghaidh tithé cónaithe. Mínigh an giorrúchán **kWh** (i nGaeilge nó i mBéarla).

kWh: _____

Ar bhille míosúil, d'úsáid custaiméir 777 aonad leictreachais ar 14.10 cent/kWh. Má tá táille sheasta de €21.50 ann, ríomh an méid iomlán atá le híoc gan CBL san áireamh.

Iomlán: _____

8. Is féidir le mic léinn feabhas a chur ar obair thionscadail ach ábhair chúil a roghnú go cúramach. Luaigh **dhá** bhuntáiste a bhaineann le haicrileach a roghnú mar ábhar d'obair thionscadail.


1. _____

2. _____

Tabhair breac-chuntas ar **dhá** réamhchúram Sláinte agus Sábháilteachta ba chóir duit a chomhlíonadh agus snas á chur ar chiumhais de phíosa aicrilih.

1. _____

2. _____



9.


Mínigh cad is ciall leis an lipéad seo nuair a thaispeántar ar tháirge é.



10.

Tá an Coinneálaí iPhone a thaispeántar le déanamh as aicrileach.
Liostaigh **ceithre** phríomhchéim is gá chun an fheiste seo a dhéanamh.

1. _____
2. _____
3. _____
4. _____




11.

Ainmnigh an t-eagar gearanna a thaispeántar ag **A**.

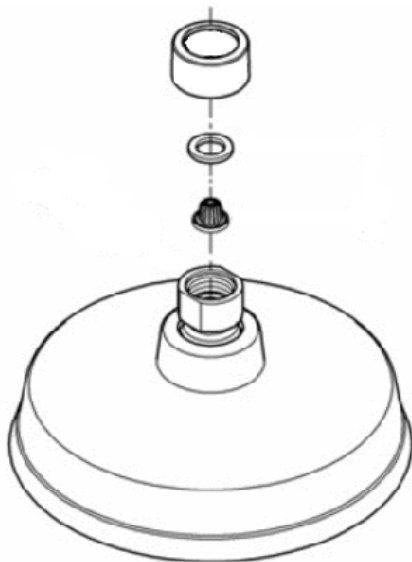
A: _____

Tabhair breac-chuntas ar bhuntáiste **amháin** a bhaineann leis an eagar seo a úsáid in obair thionscadail.

Luaigh gnáthfheidhm **amháin** atá ag an eagar gearanna seo.



12.



Úsáid **dhá** theicníocht ghrafacha chun feabhas a chur ar léiriúchán grafach na cóimeála a thaispeántar.

Leathanach Bán

Leathanach Bán

Leathanach Bán