

AN ROINN OIDEACHAIS AGUS EOLAÍOCHTA

SCRÚDÚ ARDTEISTIMÉIREACHTA 2000

TÍREOLAÍOCHT - ARDLEIBHÉAL

DÉ LUAIN, 12 MEITHEAMH – IARNÓIN 2.00 GO DTÍ 5.20

Tá **ceithre** cheist le freagairt, .i. Ceist 1, Ceist 5 agus dhá cheist as Roinn B (ceisteanna 2, 3, 4).

I bhfreagraí go mbíonn plé de dhíth iontu is fearr go mór trácht go mion ar thrí ghné nó ar cheithre ghné, seachas trácht go ginearálta ar go leor pointí.

ROINN A – OBAIR LÉARSCÁILE
Freagair Ceist 1 UILE

1. Féach ar an sliocht as léarscáil ón tSuirbhéireacht Ordánais 1 : 50 000 agus ar an Eochair a ghabhann leis agus ansin freagair na ceisteanna seo uilig.
- (a) “Tá stair i bhfad siar ag an réigiún seo de lonnaíocht daonna.” Maidir leis an sliocht ón léarscáil, scrúdaigh go mion an fhianaise mar thac leis an ráiteas. **(40 marc)**
- (b) “Is iomaí modh iompair atá le fáil ag ceantar Shligigh.” Scrúdaigh an ráiteas seo, agus bíodh sracléarscáil agat chun do fhreagra a léiriú. **(30 marc)**
- (c) Tá fianaise úsáideach le fáil sa léarscáil agus san aerfótagraf chun chur le mionscrúdú ar an infristructúr bhóithre i mBaile Shligigh. Léirigh conas mar atá difir eatorthu maidir leis an fhianaise seo. **(30 marc)**

ROINN B –TÍREOLAÍOCHT FHSICEACH, SHÓISIALTA AGUS EACNAMAÍOCH
Freagair dhá Cheist

2. **TÍREOLAÍOCHT FHSICEACH: Freagair 2(a) nó 2(b) nó 2(c) nó 2(d).**
- (a) (i) Le tagairtí do chúrsaí chreimthe **agus** do chúrsaí shil-leagain, scrúdaigh **trí** shlí ina múnlaíonn aibhneacha tírdhreach na hÉireann. **(75 mharc)**
- (ii) Scrúdaigh go hachomair **dhá** shlí ina ndéanann sochaithe daonna smacht a chur ar aibhneacha. **(25 mharc)**
- (b) (i) Maidir le **dhá** ghnáth-ghné tíre, léirigh conas mar a mhúnlaíonn gníomhú an fharraige dreach an chósta. **(60 marc)**
- (ii) Scrúdaigh go hachomair conas mar a bhíonn tionchar ag an **uile** ceann díobh seo ar an ráta ídithe ar stiall den chósta:
* an cineál carraige
* gníomhú na ndaoine. **(40 marc)**

- (c) (i) Bíodh léaráidí agat le do fhreagra chun cuntas a thabhairt maidir le fás agus forbairt ar lagracha fhronta meán-domhanleitheadacha. (40 marc)
- (ii) Mionscrúdú a dhéanamh ar an sraith aimsire go bhfuil baint le lagrach ón Aigéan Atlantach, ag dul trasna na hÉireann.
San fhreagra, bíodh tagairt:
* do bhrú an atmasféir agus don ghaoth
* do mhéid na scamall agus dá gcineál
* don teocht
* don fhrasaíocht (40 marc)
- (iii) Léirigh go hachomair an tionchar ar réamhaisnéis na haimsire atá ag na Nua-Theicneolaíochtaí. (20 marc)
- (d) “De thoradh ar an fhás ar ghníomhra an chine dhaonna, tá muid i mbaol athruithe do-iompaithe i gcóras nádúrtha an Domhain.”
Mionscrúdú a dhéanamh ar an abairt úd – le tagairt:
* don atmasféar * dos na créafóga * dos na foraoiseacha * dos na huisc. (100 marc)

3. TÍREOLAÍOCHT SHÓISIALTA: Freagair 3(a) nó 3(b) nó 3(c) nó 3(d).

- (a) **Dearc ar an aerfótagraf daite de Bhaile Shligigh a ghabhann leis seo.**
- (i) “Tá tionchar na habhann ar fhorbairt bhaile Shligigh go han-soiléir ón aerfótagraf.”
Pléigh an ráiteas sin. (40 marc)
- (ii) “Tá dlús daonra mór sa chuid sin de bhaile Shligigh atá clúdaithe san aerfótagraf.”
Pléigh **dhá** ghiota fianaise san ghriangraf mar thac leis an ráiteas seo. (30 marc)
- (iii) “Roghnaíonn an léarscáilí cé hiad na tír-ghnéithe a chuirfear sa léarscáil. Clúdaíonn an griangrafadóir an réimse iomlán atá i bhfad-radharc an cheamara.”
An difír sin a léiriú le tagairt don léarscáil **agus** don aerfótagraf. (30 marc)
- (b) (i) Tabhair cuntas mínithe ar **dhá** shampla den oll-imirce daonna idirnáisiúnta san 20ú aois. (50 marc)
- (ii) Mionscrúdú a dhéanamh ar thoradh dearfa **ambáin** agus ar thoradh diúltach **ambáin** a d’fheadfadh a bheith ag oll-imirce dá short ar an cheann-scríbe nó ar ceanntar glachta. (50 marc)

(c) **Eás na gcathracha 1970-2010**

"Bíonn cathracha ag fás toisc a éifeachtaí is a bhíonn siad ag dáileadh seirbhísí, agus toisc an cumas a bhíonn acu go leor feidhmeanna a chur ar fáil dá n-áithritheoirí. Sroictear áfach léibheann criticiúil, agus ní aisling uirbeach ach tromluí uirbeach a bhíonn do chuid mhaith den lucht chónaithe."

Los Angeles	+65%
Caireo	+153%
Tóiceo	+90%
Rio de Janeiro	+127%
Cathair Mheicsiceo	+97%

Mionscrúdú a dhéanamh ar an ráiteas úd agus bíodh tagairtí agat dos na fíricí sa tábla. I do fhreagra, bíodh tagairtí dos na codarsnachaí sóisialta agus eacnamaíoch idir tíortha éagsúla. **(100 marc)**

(d) (i) Ar na toscanna a bhíonn ina mbac ar fhorbairt i dtíortha bochta an domhain tá:


- * an timpeallacht fhisiceach
- * caiteachas míleata
- * oll-fhás daonra
- * trádáil éagóir
- * fiacha eachtracha.

Scrúdú a dhéanamh ar **thré** chinn des na toscanna úd a chuir bac ar fhorbairt eacnamaíoch na dtíortha atá i mbéal forbartha. **(75 mharc)**

(ii) Déan mionscrúdú go hachomair ar **dhá** shaghas chúnaimh dos na tíortha i mbéal forbartha. **(25 mharc)**

4. **TÍREOLAÍOCHT EACNAMAÍOCH: Freagair 4(a) nó 4(b) nó 4(c) nó 4(d)**

(a) **Príomh-threonna Uirbeacha**



Leirítear forbairt eacnamaíoch i ngeilleagar Iarthar an Domhain tríd an fhás ar an leibhéal –

- (i) sa chathrú;
- (ii) sa tomhaltas;
- (iii) in úinéireacht chairr.

Pléigh an ráiteas úd agus bíodh tagairtí agat do **dhá** cheann díobh thuas. (100 marc)

- (b) (i) “Tháinig athrú le himeacht ama ar na toscanna a bhaineann le lonnaíocht thionscal na déantúsaíochta.”
Scrúdaigh cé chomh fíor is atá an ráiteas, agus déan tagairt do roinnt samplaí ar a bhfuil staidéar déanta agat. (70 marc)
- (ii) “Ba cheart go mbeadh áit lárnach ag athchúrsáil sa phleanáil eacnamaíoch – logánta, náisiúnta agus idirnáisiúnta – san 21ú aois.”
Dhá argóint ar son na hathchúrsála a léiriú agus déan tagairt do shamplaí ar a bhfuil staidéar déanta agat. (30 marc)

(c) Tá mór-thionchar ag na fórsaí eacnamaíocha seo ar thalmhaíocht an lae inniu:

- Éileamh agus Soláthar ar earraí feirme;
- Ról an pholasáí phoiblí;
- Teicneolaíocht agus méadú ar chostaisí;
- Laghdú ar an líon oibrithe;
- Méadú ar fheirmeacha;
- Ioncam na bhfeirmeacha;

Tóg do rogha **trí** thosca agus déan scrúdú ar an tionchar atá ag **an uile ceann acu** ar thalmhaíocht an lae inniu. (100 marc)

(d) Ag tagairt do thionscadal thíreolaíochta in obair allamuigh atá déanta agat:

- (i) Luaigh teideal agus aidhmeanna an tionscadail. (10 marc)
- (ii) Mínigh conas mara rinne tú an réamh-ullmhúchán. (20 marc)
- (iii) Léirigh conas mar a chuir tú chun na hoibre allamuigh. (30 marc)
- (iv) Mínigh conas mara chuir tú na torthaí ar fáil, agus tabhair cuntas achomair ar do chonclúidí. (30 marc)
- (v) Déan cur síos ar ghné **amháin** des na torthaí gur fiú tuilleadh scrúdaithe a dhéanamh air. (10 marc)

ROINN C

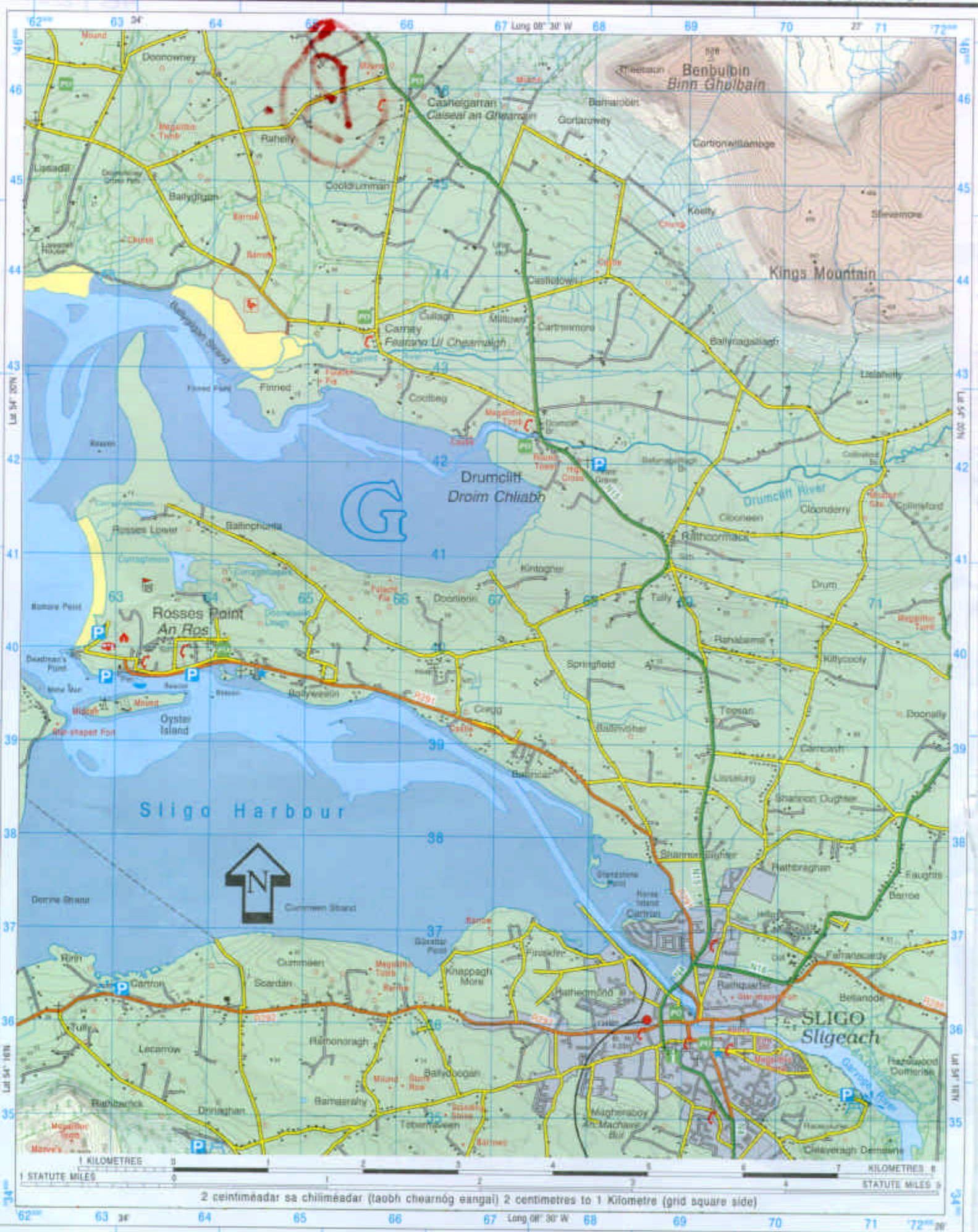
Freagair Ceist 5

5. TÍREOLAÍOCHT RÉIGIÚNACH: Freagair 5 (a) nó 5(b) nó 5 (c) nó 5 (d).

- (a) Comparáid agus codarsnacht a shoiléiriú maidir le toscanna a d'fhéadfadh a bheith ina dtionchar ar fhorbairt na dtionscal iascaireachta, i gcomhthéacs na hÉireann **agus** maidir le tír mhuirí **ambáin** eile in Iarthar na hEorpa. (100 marc)
- (b) Poblacht na hÉireann, an Fhrainc, an Ghearmáin, an tSualainn, an Spáinn.
Tóg do rogha tír díobh agus le cabhair sracléarscaile mol – agus cosain do mholadh – conas a d'fhéadfaí an tír úd a roinnt ina **trí** (nó níos mó) réigiún tíreolaíochta. (100 marc)
- (c) (i) Déan mionscrúdú ar na cúiseanna atá le forbairt rathúil ar thionscal na turasóireachta **i ndá thír** atá éagsúil ar fad, in Iarthar na hEorpa. (40 marc)
- (ii) Scrúdú a dhéanamh ar thábhacht eacnamaíoch thionscal na turasóireachta in **aon** tír ar bith dá bhfuil i gceist agat in (i) lastuas. (30 marc)
- (iii) Cuntas achomair a thabhairt ar **dhá** shlí ina mbeadh mór-thionchair dhiúltacha ag an turasóireacht ar réigiún ar bith. (30 marc)
- (d) Déan mionscrúdú ar na príomh-thoscanna a bhí ina dtionchar ar an fhorbairt sa talmhaíocht **nó** sa tionscal déantúsaíochta i do rogha tír i gCríoch Lochlann. (100 marc)

NOTE: UNAUTHORISED REPRODUCTION INFRINGES STATE COPYRIGHT.
 TAHAIR FAOI DEARA: IS SÁRÚ CHÓIPCHEART AN STÁIT
 MACASAMHLU GAN CHEAD.

Compiled, Printed & Produced by the Director at the Ordnance Survey Office,
 Phoenix Park, Dublin.
 An Stiúrthóir, Oifig na Sárthreachtóirí Ordánais, Páirc an Fhionnruisce,
 Baile Átha Cliath, a thionscnaigh, a chloíodh agus a d'fhóilsigh.



Eolas Turasóireachta Tourist Information

Láithreán carbhán (dirthurais) Caravan site (transit)	Ionad eolais turasóireachta (ar oscailt ar feadh na bliana) Tourist information centre (regular opening)
Brú An Óige / Neamhspleách Hostel An Óige / Independent	Ionad eolais turasóireachta (ar oscailt le linn an tséasúir) Tourist information centre (restricted opening)
Ionad páirceála Parking	Ionad dearctha Viewpoint
Láithreán picnic Picnic site	An Taisce National Trust
Teilefón Poiblí Public Telephone	Tearmann Dúra Nature Reserve
Láithreán campála Camping site	Galfchúrsa, machaire gailf Golf Course or Links

Bóithre Roads

M1	Mótarbhealach Motorway (Junction number)	R 574	Bóthar Réigiúnach Regional Road
N 11	Bóthar príomha náisiúnta National Primary Road		Bóthar den tríú grád Third Class Road
N 71	Bóthar tánaisteach náisiúnta National Secondary Road		Boithre de chineál eile Other Roads
	Carrbhealach dubailte Dual Carriageway		Bealach Track
	Bóthar príomha / tánaisteach náisiúnta beartaithe Proposed Nat. Primary / Secondary Road		

Gnéithe ginearálta General features

Foirgnimh le tais a chéile Built up Area	Garda Síochána Police	Crann Mast	Trasnú cliathráin Graticule Intersection
Aerfort Airport	Stáisiún cumhachta (uisce) Power Station (Hydro)	Eaglais nó séipéal Church or Chapel	Siúbhealach le comharthaí; gan comharthaí Waymarked Walks; Unmarked
Aerpháirc Airfield	Stáisiún cumhachta (breosla iontaiseach) Power Station (Fossil)	Ardeaglais Cathedral	Bád fartha (feithiclí) Ferry (Vehicle)
Oifig phoist Post office	Líne tarchurtha leictreachais Electricity Transmission Line	Cuaille triantánachta Triangulation Pillar	Bád fartha (paisinéirí) Ferry (Passenger)

Teorainneacha Boundaries

Teorainn idirnáisiúnta International Boundary	Seilbh de chuid an Aire Chosanta Dept. of Defence Property
Teorainn chontae County Boundary	Foraois bhuaircineach Coniferous Plantation
Páirc Náisiúnta National Park	Coill nádúrtha Natural Woodland
Páirc Foraoise Forest Park	Foraois mheasctha Mixed Woodland

Séadchomhartha Antiquities

- Séadchomhartha
Ainmnithe
Named Antiquities
- Clós, m.sh. Ráth nó Lios
Enclosure, e.g. Ringfort
- Láthair Chatha (le dáta)
Battlefield (with date)

Relief Relief

- Céim imlíne comhairde
10m
10m Contour Interval
- Céim imlíne comhairde
50m
50m Contour Interval
- 122 • Spota airde
Spot Height


Gnéithe uisce Water features

Loch Lake	Bádóireacht Boating activities
Canáil, canáil (thirim) Canal, Canal (dry)	Líne bharr ísín High Water Mark
Abhainn nó sruthán River or Stream	Líne lag trá Low Water Mark
Teach Sois in úsáid / as úsáid Lighthouse in use / disuse	Trá Beach

Iarnróid Railways

Iarnróid Railways	Crosaire comhréidh Level Crossing
Iarnród tionscalalach Industrial Line	Stáisiún traenach Railway Station
Tollán Tunnel	

IRISH
NATIONAL
GRID



SAMPLE
GRID
REFERENCE
ONLY

NOTE: THESE GRID REFERENCES ARE
SAMPLE REFERENCES ONLY! AND THE
PLACES NAMED ARE NOT FOUND ON
THIS MAP EXTRACT.

FROM -
DISCOVERY SERIES SHEET 2
RATHMULLAN C 295 275

DISCOVERY SERIES SHEET 2
JACOBS BRIDGE C 347 323

